

BATERIA DE EXERCÍCIOS COMPLEMENTARES

1º Trimestre / 2019

Obs.: As atividades desta bateria contemplam o conteúdo do trimestre.

Unidade 1 - Geopolítica.

1.

"Quem cunhou e primeiro utilizou o termo geopolítica foi o cientista político Kjellén. A geopolítica clássica pode ser definida como um instrumento da política externa de um país, baseado na valorização do território como forma de exercer a hegemonia mundial".

A geopolítica clássica fundamentava-se no(a)

- (A) Possibilismo de Paul Vidal de La Blache.
- (B) Geografia Regional de Alexander Humboldt.
- (C) Determinismo de Friedrich Ratzel.
- (D) Humanismo de Eric Dardel.

2. O conceito de geopolítica foi criado no final do século XIX com base no trabalho do Geógrafo:

- (A) F. Ratzel.
- (B) T. Malthus.
- (C) T. Morus.
- (D) La Blache.

3. Na primeira década do século XXI, o mundo assistiu a mudanças geopolíticas que têm definido um novo equilíbrio de forças no mundo. Cite um exemplo de mudança na geopolítica mundial do século XXI.

4. O conflito árabe-israelense está associado a questões

- (A) culturais apenas.
- (B) étnico-territoriais.
- (C) religiosas e econômicas.
- (D) relacionadas a produção de petróleo na Palestina.

5. Por um capricho da história a Palestina faz parte da ancestralidade de dois povos, judeus e árabes. Atualmente, o Estado judeu encontra-se consolidado e reconhecido internacionalmente, contudo, o mesmo não ocorre com o Estado palestino. Cite os principais entraves a criação do Estado palestino segundo o plano original da ONU de partilha da região.

6. É formado em sua maioria por pântanos e montanhas. Existem áreas férteis entre os rios Tigre e Eufrates. Estes dois grandes rios se unem e formam o Chatt al Arab, que desemboca no golfo Pérsico. O conflito com o Irã (1980-1988) e a Guerra do Golfo (1991) causaram retração na economia devido à virtual destruição da infraestrutura e à limitação da exportação de petróleo e gás natural.

Identifique o país de que se fala.

- (A) Síria.
- (B) Jordânia.
- (C) Líbano.
- (D) Iraque.

7. Por que o sistema internacional de intervenção militar é definido como assimétrico?

8. Leia o texto a seguir:

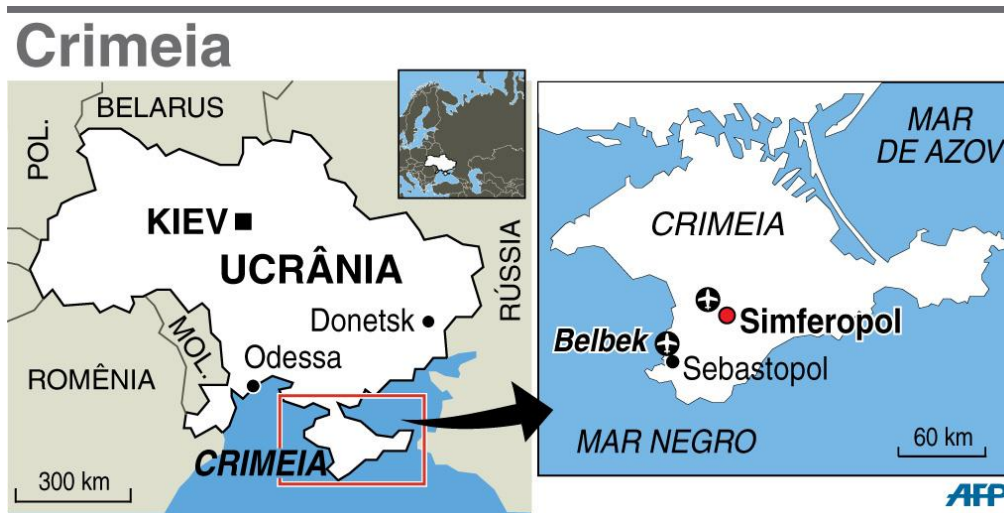
"A natureza do conflito mudou. O século XX, o mais sangrento da história da humanidade, foi definido, primeiro, pelas guerras entre países e, depois, pelos receios da Guerra Fria de confronto violento entre duas superpotências. Agora, esses receios deram lugar aos medos das guerras locais e regionais, travadas predominantemente em países pobres, no interior de Estados fracos ou falidos e com pequenas armas como as preferidas. A maioria das vítimas das guerras de hoje é civil. Há menos conflitos no mundo hoje do que em 1990, mas a parcela desses conflitos que ocorre em países pobres aumentou".

Fonte: ONU. Relatório do Desenvolvimento Humano. 2005.

Marque a alternativa que apresenta um país e o recurso natural do qual provêm meios para sustentar conflitos violentos:

- (A) Afeganistão - Madeiras
- (B) Iraque - Petróleo
- (C) Peru - Gás natural
- (D) Colômbia - Café

9. Explique sucintamente o conflito presente na região do mapa a seguir apontando os principais envolvidos.



10.



Tirinha da Mafalda em crítica à ONU

A tirinha acima considera que a Organização das Nações Unidas:

- (A) não possui um amplo reconhecimento diplomático internacional.
- (B) ineficiente em seu objetivo de conter conflitos internacionais.
- (C) possui um baixo poder de convencimento sobre as decisões do Vaticano.
- (D) apresenta uma baixa visibilidade para proferir discursos de paz.


Unidade 2 – Globalização.

11. Leia com atenção:

"Parabolicamará"

Antes mundo era pequeno
porque Terra era grande
hoje mundo é muito grande
porque Terra é pequena
do tamanho da antena

Parabolicamará
Ê, volta do mundo, camará
Ê, mundo dá volta, camará
antes longe era distante
perto só quando dava
quando muito ali defronte
e o horizonte acabava (...)



(...) de jangada leva uma eternidade
de saveiro leva uma encarnação
de avião o tempo de uma saudade
pela onda luminosa
leva o tempo de um raio (...)

Gilberto Gil

A partir destes versos, considere as afirmações adiante - expressas em linguagem geográfica - e assinale a alternativa que contém aquela (ou aquelas) que se sintoniza (ou sintonizam) com a letra da música:

- I. A dimensão mundial dos acontecimentos está presente na vida das pessoas, devido, entre outras razões, ao desenvolvimento tecnológico dos meios de comunicação e informação, diluindo o regional no global, com as transmissões via satélite e as redes informatizadas.
 - II. A evolução dos meios de transporte diminuiu o tempo de acesso aos lugares, mudando o significado de proximidade e distância geográfica, ou seja, alterando a relação entre espaço e tempo.
 - III. O avanço das tecnologias de comunicação e de transportes elimina o papel da dimensão local (do lugar) do espaço geográfico, na formação dos valores sociais, agora determinados somente por influências externas.
- (A) I e II.
(B) I e III.
(C) II e III.
(D) I, II e III.

12. (Enem 2016)

Dados recentes mostram que muitos são os países periféricos que dependem dos recursos enviados pelos imigrantes que estão nos países centrais. Grande parte dos países da América Latina, por exemplo, depende hoje das remessas de seus imigrantes. Para se ter uma ideia mais concreta, recentes dados divulgados pela ONU revelaram que somente os indianos recebem bilhões de dólares de seus compatriotas no exterior. No México, segundo maior volume de divisas, esse valor chega a bilhões de dólares e nas Filipinas, o terceiro, a bilhões.

HAESBAERT. R.; PORTO-GONÇALVES, C. W. A nova des-ordem mundial. São Paulo: Edunesp, 2006.

Um aspecto do mundo globalizado que facilitou a ocorrência do processo descrito, na transição do século XX para o século XXI, foi o(a)

- (A) integração de culturas distintas.
- (B) avanço técnico das comunicações.
- (C) quebra de barreiras alfandegárias.
- (D) flexibilização de regras trabalhistas.

13.

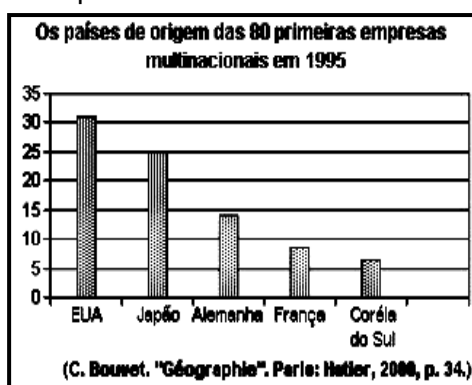
Apple Inc. é uma empresa multinacional norte-americana que tem o objetivo de projetar e comercializar produtos eletrônicos de consumo, software de computador e computadores pessoais. Os produtos de hardware mais conhecidos da empresa incluem a linha de computadores *Macintosh*, o *iPod*, o *iPhone*, o *iPad*, a *Apple TV* e o *Apple Watch*.

Disponível em: <<https://pt.wikipedia.org/wiki/Apple>>. Acesso em: 26 nov. 2015.

Os componentes do preço de venda do *Iphone* representam

- (A) a centralização das unidades produtivas no país sede da Apple.
- (B) a introdução de métodos fordistas na fabricação do smartphone.
- (C) o padrão atual da distribuição territorial das atividades econômicas.
- (D) o domínio do modelo clássico da divisão internacional do trabalho.

14. Observe o gráfico para responder à questão.



A leitura do gráfico permite afirmar que

- (A) as sucessivas crises do sistema capitalista, desde os anos de 1980, têm alterado a posição dos países que mais concentram multinacionais.
- (B) a transnacionalização do capital tende a desvincular a multinacional de seu país de origem.
- (C) as multinacionais são reflexo da potência econômica dos países e, de certa forma, produzem sua hierarquia.
- (D) a internacionalização do capital deverá modificar, substancialmente, a posição dos países concentradores das multinacionais.

15. A globalização é um fenômeno que tem como uma de suas características fundamentais a crescente abertura econômica e política entre os países. Sobre esse fenômeno, é correto afirmar:

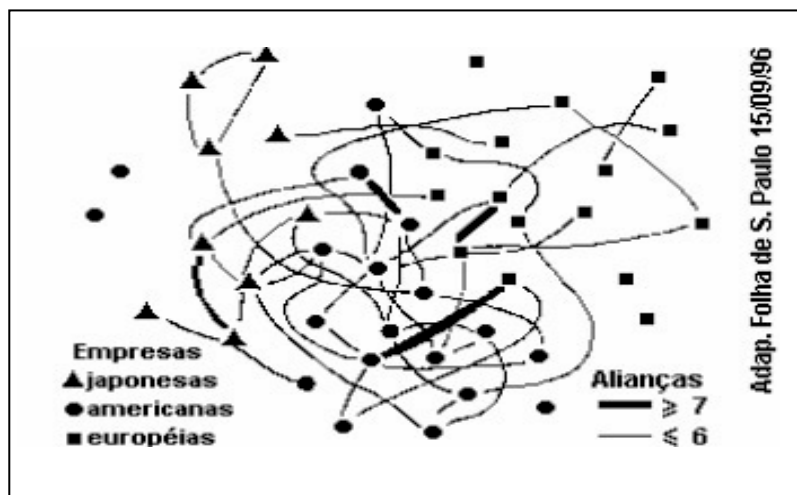
- (A) Sua emergência tornou obsoletos os blocos econômicos regionais, pois facilitou o comércio direto de país para país.
- (B) Uma das consequências políticas do fortalecimento desse fenômeno foi a transferência da soberania nacional para organismos supranacionais, a exemplo da ONU.
- (C) As fronteiras nacionais perderam suas funções legais de controle de fluxos.
- (D) O desenvolvimento tecnológico associado às condições políticas mundiais das últimas décadas do século XX intensificou o processo de globalização.

16. Na década de 1990, aceleravam-se as fusões e aquisições entre conglomerados transnacionais. Identifique um motivo capaz de justificar essa tendência.

- (A) a presença dos capitais britânicos fluindo para todos os continentes.
- (B) o acirramento da concorrência (grandes investimentos em pesquisa, marketing e comercialização) em escala global.
- (C) os grandes conglomerados econômicos chamados de FMI.
- (D) a industrialização dos países chamados de subdesenvolvidos.

17. A rígida divisão do trabalho do taylorismo e a procura de mão-de-obra barata e de mercados nacionais estão cedendo lugar às novas necessidades industriais do capitalismo detectadas, a partir da década de 70, nos países do Norte.

A figura a seguir ilustra essa nova maneira de produzir, que privilegia.



- (A) as alianças empresariais, restritas ao interior de blocos regionais, mas disputando a hegemonia sobre mercados supranacionais.
- (B) a economia de redes transnacionais multiplicando as trocas entre o mundo da tecnologia, das indústrias e dos serviços.
- (C) a ação de multinacionais que competindo pelo domínio da tecnologia, colocam os mercados nacionais acima dos imperativos da globalização.
- (D) o papel da mídia, padronizando as informações e criando necessidades de consumo de novos produtos industriais.

18. O homem deste milênio tem uma nítida percepção do poder da sociedade moderna em alterar o ambiente econômico, social e natural. Em parte, as rápidas mudanças do último século ocorreram de forma consciente; outras surpreenderam, agradável ou desagradavelmente. Sobre esse tema, é incorreto dizer que

- (A) uma das surpresas desagradáveis foi o poder destrutivo e insustentável dos sistemas de produção e do consumo.
- (B) torna-se cada vez mais eminente a necessidade de compreender a relação existente entre os sistemas humanos e os sistemas naturais.
- (C) a melhoria tecnológica reduz, em parte, o desperdício dos recursos naturais e, conseqüentemente, a poluição ambiental.
- (D) as ações antrópicas sobre o sistema natural, apesar de acarretarem efeitos desagradáveis, provocam, nos espaços rurais, a diminuição do assoreamento fluvial e a intensificação da erosão.

19. Explique como podemos caracterizar a DIT com base na sucessão de etapas que identificam o nível tecnológico dos países desenvolvidos e subdesenvolvidos.

20.

Durante as últimas três décadas, o valor da produção econômica quadruplicou e as exportações quase sextuplicaram nos países capitalistas desenvolvidos. A principal causa desta expansão está ligada a um grupo, bem definido, de grandes empresas com interesses globais, as quais apresentam dimensões gigantescas no que se refere ao volume de produção e ao pessoal ocupado. Segundo a Organização das Nações Unidas (ONU), estas empresas "são sociedades que possuem ou controlam meios de produção ou serviços fora do país onde estão estabelecidas". Geralmente, são denominadas "empresas multinacionais" ou "empresas transnacionais"

Com base nestas afirmações, responda.

- a) Qual o significado dos termos "multinacional" e "transnacional"?
- b) Que condições determinaram a instalação destas empresas nos países subdesenvolvidos da América Latina, África e Ásia?

21. O comércio mundial apresentou um crescimento muito grande a partir da década de 1950, sendo que cada país teve uma participação diferente nesse processo de crescimento das trocas mundiais. A respeito do comportamento do comércio internacional, pode-se afirmar que

- I. a grande maioria desse comércio é feita entre os países de industrialização mais avançada.
- II. nas transações comerciais internacionais predominam os produtos industrializados.
- III. são as grandes empresas que realizam grande parte dessas transações internacionais, principalmente as multinacionais.
- IV. está havendo maior exportação de manufaturados por alguns países considerados "periféricos".

As afirmativas corretas são:

- (A) somente I e IV.
- (B) somente II e III.
- (C) somente III e IV.
- (D) somente I, II e III.

22. (Uece 2016)

Os impactos ambientais resultantes do rompimento da barragem de uma mineradora em Mariana-MG, no mês de novembro, são os mais diversos, estendendo-se pelos meios bióticos, abióticos e sociais, e ainda estão longe de ser totalmente mitigados.

Conceitualmente, impacto ambiental pode ser entendido como

- (A) qualquer alteração das propriedades físicas, químicas e biológicas do meio ambiente, que afetam a saúde, a segurança e o bem-estar da população, as atividades sociais e econômicas, a biota, as condições estéticas e sanitárias do meio ambiente e a qualidade dos recursos ambientais.
- (B) modificações ou alterações naturais de ordem física ocorridas sobre os recursos hídricos de uma determinada bacia hidrográfica apenas de forma direta e com longa duração.
- (C) os desequilíbrios ocorridos nos ecossistemas associados necessariamente aos recursos hídricos de origem antrópica ou natural, que podem ser mensurados em matrizes de impacto ambiental e previstos em EIA-RIMA.
- (D) a mudança de um determinado parâmetro ambiental, num determinado período e numa determinada área, resultante de uma dada atividade, com impactos somente no meio socioeconômico.

23. (Ufrgs 2016) O Painel Intergovernamental sobre Mudanças Climáticas (<http://www.ipcc.ch>) é uma das maiores redes globais de cooperação e coordenação de pesquisas sobre mudanças climáticas globais. O aquecimento global é uma das maiores preocupações desse vasto grupo de cientistas do mundo todo. Considere as afirmações abaixo, sobre as consequências do aquecimento global.

- I. O Monte Kilimanjaro na África, porções da Cordilheira dos Andes e da Cordilheira do Himalaia provavelmente perderão a maioria de seu gelo glacial nas próximas duas décadas.
- II. A intensidade dos ciclones tropicais, correlacionada à elevação das temperaturas da superfície do mar em regiões tropicais, aumentará.
- III. Secas mais longas e intensas, particularmente nos trópicos e subtropicais, como as regiões do Sahel, Mediterrâneo, África meridional, Oeste dos Estados Unidos, já estão sendo observadas e aumentarão de intensidade.

Quais estão corretas?

- (A) Apenas I.
- (B) Apenas II.
- (C) Apenas I e III.
- (D) I, II e III.

24. (Pucsp 2016) Leia:

“O mercado de combustíveis fósseis está em negação sobre a queda de demanda futura e iludindo seus investidores. Uma análise da Carbon Tracker Initiative questiona os cenários promovidos por grandes empresas de energia, que calculam que o uso de fósseis continuará a crescer nas próximas décadas – sem considerar o barateamento das fontes renováveis, a inclinação à descarbonização de muitos países e o alto investimento em outras tecnologias de armazenamento de energia e eficiência energética.”

(Perdidos na transição energética. In Observatório do Clima, <http://www.observatoriodoclima.eco.br/perdidos-na-transicaoenergetica/>, acesso 27/10/2015)

Considerando o questionamento feito no texto ao mercado produtor e comercial de combustíveis fósseis, é correto afirmar que

- (A) a diminuição das emissões de carbono (descarbonização) é fato notório e alvo de programas eficientes, como nos EUA e na China, antes os principais emissores.
- (B) o crescimento futuro do uso de combustíveis fósseis é certo, pois as novas tecnologias de prospecção estão nos informando sobre reservas inesgotáveis.
- (C) o questionamento parece fazer sentido, pois já se nota em vários países, inclusive na China, uma queda da demanda atual por combustíveis fósseis.
- (D) é inconsistente a afirmação sobre o barateamento das fontes renováveis, pois os custos com o armazenamento dessas, como represas, por exemplo, são sempre crescentes.

Unidade 3 – O continente europeu.

25. Observe a tabela a seguir.

Países	PNB total (bilhões de dólares)	Renda per capita (em dólares)
Estados Unidos	5.686	22.560
Japão	3.338	26.920
Alemanha	1.517	23.650
França	1.161	20.600
Itália	1.072	18.580
Reino Unido	964	16.750
Canadá	569	21.260
Espanha	487	12.460
Rússia	480	3.220

Fonte: Vesentini, J.W. - "A Nova Ordem Mundial". Editora Ática, 1996.

Com a crise verificada no mundo socialista, um continente se destacava, em 1992, pelo número de países colocados entre os nove de melhor desempenho econômico. Trata-se do continente

- (A) Europeu.
- (B) Asiático.
- (C) Americano.
- (D) Africano.

26. Quais são as principais penínsulas do continente europeu?

27. Ao realizar uma viagem terrestre pelo continente europeu, de Roma a Madri, percorre-se um relevo marcado por cadeias montanhosas. Assinale a alternativa que contém a sequência correta das mesmas.

- (A) Apeninos, Alpes, Pirineus.
- (B) Alpes, Urais, Cáucaso.
- (C) Pirineus, Vosges, Urais.
- (D) Balcãs, Cárpatos, Cáucaso.

28. Observe o texto e o mapa a seguir:

"Quatro continentes se unem hoje para tentar dar à França seu primeiro título de campeão do mundo de futebol, na final contra a seleção brasileira. É a herança do colonialismo que entra em campo vestida de azul. (...)

São de origem estrangeira recente 13 dos 22 jogadores que compõem a seleção francesa que decide hoje a Copa. Da Oceania vem Karembeu, nascido na possessão francesa da Nova Caledônia. Da América vêm Thuram e Diomede, de Guadalupe, possessão francesa do Caribe, e Bernard Lama, da Guiana Francesa. Na África nasceram Patrick Vieira (Senegal) e Marcel Desailly. Além desses, há os nascidos na França mas de ascendência estrangeira, como Zidane (filho de argelinos), Djorkaeff e Boghossian (de famílias armênias, entre outros). (...)

Há cerca de 3,5 milhões de estrangeiros vivendo na França, aproximadamente 6% da população do país. Este número não inclui filhos de estrangeiros com nacionalidade francesa."

(Adaptado de "FOLHA DE SÃO PAULO", 12/07/98)

A partir da situação da imigração para a Europa Ocidental, onde o exemplo francês é significativo, explique:

- a) a importância para o continente europeu dos fluxos de população após a Segunda Guerra, identificando a origem geográfica destes.
- b) a tendência à restrição à imigração estrangeira na atualidade.

29.

Com o índice de natalidade em queda e uma expectativa média de vida que atinge os 77 anos, a Europa está se tornando um continente de idosos. Na maioria dos países europeus o crescimento vegetativo caiu vertiginosamente uma vez que o número de nascimentos por mulher não supera o valor mínimo necessário para repor a população que morre.

"VEJA" - Terra Grisolha

- a) Explique dois fatores que contribuíram para a queda do índice de natalidade na Europa.
b) Explique uma das consequências decorrentes do envelhecimento da população europeia.

30. A Europa Nórdica possui fatores de homogeneidade:

- I. Grande participação do setor industrial.
- II. Pequena disparidade entre as classes sociais.
- III. Posição geográfica privilegiada, situa-se no nordeste do continente europeu.
- IV. Grande densidade demográfica dentro da Europa.
- V. Relevo acidentado, clima frio, florestas temperadas.

São corretas as afirmativas:

- (A) I e III.
(B) II e IV.
(C) I e II.
(D) III e V.

31.

Vem ocorrendo na Europa um aumento do número de pessoas que se mudam para trabalhar temporariamente naquele continente. A importação de trabalhadores estrangeiros por alguns países europeus pode ser corretamente justificada pelos seguintes fatores:

1. envelhecimento da população nativa.
2. condições ambientais e climáticas favoráveis.
3. crescimento da economia.
4. estagnação no crescimento populacional.
5. redução do xenofobismo e do terrorismo.
6. desintegração do Império Soviético e Guerra do Afeganistão.

Estão corretas apenas

- (A) 1 e 6.
(B) 1, 3 e 4.
(C) 3, 4 e 5.
(D) 2, 4 e 6.

32.

"...e qualquer um que ceder à intolerância deve ter em conta que sem O TRABALHO DESSES ESTRANGEIROS a riqueza de nosso país não seria possível."

O texto retrata a advertência, provavelmente, de um dirigente

- (A) turco ou sírio, contra o movimento separatista dos curdos.
(B) espanhol, contra o movimento separatista dos bascos.
(C) paquistanês ou indiano, contra a onda de perseguição aos muçulmanos.
(D) alemão ou francês, contra a onda de xenofobia crescente em seu País.

33. De acordo com VICENTINO & SCALZARETTO ("O mundo atual", 1994), os movimentos nacionalistas reapareceram, recentemente, com um novo aspecto, sendo denominados neonacionalistas. O neonacionalismo tem-se manifestado basicamente de duas formas: nacionalismo separatista e xenofobia. A propósito desse tema, faça o que se pede:

- a) apresente a ideia básica do nacionalismo.
- b) conceitue "xenofobia" e cite um motivo que explique sua ocorrência na atualidade.

34. A industrialização europeia teve como base energética o uso do carvão mineral. Até hoje, mesmo com a ampliação do uso de petróleo, da energia hidrelétrica e das usinas nucleares, o carvão permanece como importante fonte energética, principalmente, nos países da Europa Oriental. Ocorre, porém que a queima do carvão mineral, em grandes quantidades, pode provocar o aumento do volume do óxido de enxofre na atmosfera, e, com isso, o fenômeno do(da):

- (A) redução da ionosfera.
- (B) vento geotrópico.
- (C) rarefação do ar.
- (D) chuva ácida.



🚩 Unidade 1 - Geopolítica.

- 1. C
- 2. A
- 3. O crescimento do terrorismo internacional, a invasão do Iraque, a formação dos BRICS, o fortalecimento da Rússia e o acelerado crescimento econômico da China.
- 4. B
- 5. A atuação de grupos terroristas contrários ao Estado de Israel e a ocupação militar de áreas destinadas a criação do Estado palestino.
- 6. D
- 7. Devido à existência de uma única superpotência, os Estados Unidos, que atua segundo seus interesses estratégicos.
- 8. B
- 9. A região apresentada pelo mapa é a Crimeia, território ucraniano ocupado e anexado recentemente pela Rússia, a revelia da legislação internacional. A Crimeia é uma região estratégica para os Russos que utilizam o porto militar de Sebastopol como ponto de apoio fundamental para suas operações no mar Mediterrâneo. Contudo, a Ucrânia estava sinalizando uma aproximação com a União Europeia, contrariando os interesses da Rússia.
- 10. B

🚩 Unidade 2 - Globalização.

- 11. A
- 12. B
- 13. C
- 14. C
- 15. D
- 16. B
- 17. B
- 18. D

19. A maior parte da riqueza gerada na economia globalizada tem sido apropriada pelas nações desenvolvidas, que, dispondo de mais recursos, elevam cada vez mais seu nível tecnológico. Em contrapartida, os países subdesenvolvidos tornam-se ainda mais pobres, com grande limitação de recursos financeiros, o que constitui um sério entrave ao desenvolvimento e à capacidade de gerar novas tecnologias. Desta forma, a atual Divisão Internacional do Trabalho apresenta uma sequência de etapas ligadas ao nível de desenvolvimento tecnológico, tanto nos países desenvolvidos quanto nos países subdesenvolvidos.

20.

- a) São empresas que por meio de filiais ou subsidiárias, desenvolvem atividades em muitos países, mas possuem uma única matriz, geralmente no país de origem.
- b) As empresas transnacionais buscaram se instalar em países subdesenvolvidos que oferecessem maiores vantagens econômicas como: mão de obra barata, recursos naturais e legislação trabalhista e ambiental pouco rígidas.

21.D

22.A

23.D

24.C

Unidade 3 – O continente europeu

25.A

26. Península Ibérica, Escandinava, Itálica, Kola, Balcânica, Jutlândia, Criméia e Bretanha.

27.A

28.a) Os fluxos migratórios podem contribuir para a formação de uma mão de obra jovem, uma vez que, o envelhecimento populacional está a comprometer a formação de novos trabalhadores.

b) Estes fluxos têm origem em países subdesenvolvidos, destacando-se as ex-colônias europeias da África. Recentemente, os conflitos desencadeados na Ucrânia e, sobretudo, na Síria, promoveram um dos maiores fluxos de pessoas desde a segunda guerra. Esta situação levou a muitos países europeus a fecharem suas fronteiras.

29.a) A queda da natalidade está associada, na Europa, a elevada qualidade de vida população, aos bons indicadores de saúde pública e renda.

b) Como consequências do envelhecimento populacional na Europa, destacamos: a redução da oferta de mão de obra, a diminuição do consumo e da atividade econômica, além da elevação do déficit público decorrente do desequilíbrio fiscal previdenciário.

30.C

31.B

32.D

33.a) O Nacionalismo é um fenômeno decorrente das contradições econômicas vivenciadas atualmente pelos países europeus. O crescimento do desemprego, ocasionado em parte pela globalização, aliado ao crescimento dos fluxos de imigrantes, são fatores relevantes para o entendimento desta questão.

b) A xenofobia consiste na aversão a estrangeiros e o seu crescimento nos dias atuais está associado ao aumento da presença de imigrantes nos países europeus como consequência dos problemas econômicos, sociais e políticos que assolam o mundo subdesenvolvido.

34.D

ANOTAÇÕES
